



mais cores

Solução Educacional

1º ANO

SEMANA 4

PARA COMEÇO DE CONVERSA:

VOLTAMOS PARA MAIS UMA SEMANA DE MUITAS APRENDIZAGENS! VAMOS CONTINUAR APRENDENDO JUNTOS? **MAS ANTES, VAMOS FAZER ALGUNS COMBINADOS?**

- PROCURE REALIZAR SUAS ATIVIDADES EM UM AMBIENTE ADEQUADO.
- CASO VOCÊ TENHA DIFICULDADES, PEÇA AJUDA A ALGUÉM QUE MORA COM VOCÊ.
- CONTINUE FAZENDO SUAS ATIVIDADE COM MUITO CAPRICHOS.
- NÃO ESQUEÇA QUE VOCÊ MOSTRARÁ SUAS ATIVIDADES PARA SUA PROFESSORA E SEUS COLEGAS DE SALA QUANDO AS AULAS RETORNAREM!
- VOCÊ PODERÁ IMPRIMIR AS ATIVIDADES OU REALIZÁ-LAS EM UM CADERNO ESPECIAL.

UMA ÓTIMA SEMANA PARA TODOS NÓS!



Queridos alunos.

Aproveitamos para informar que esta semana teremos menos atividades no nosso Roteiro de Estudos Mais Cores devido ao feriado.


Entretanto, no dia 27/04 retornaremos com todas as atividades e com muita novidade para vocês!

Aguardem e até lá!




LÍNGUA PORTUGUESA

DESCUBRA QUAIS VOGAIS FALTAM E DEPOIS ESCREVA
NO SEU CADERNO O NOME DE CADA FRUTA:



M _ _ R _ _ N G _ _




B _ _ N _ _ N _ _




M _ _ M _ _



M _ _ Ç _ _



K _ _ w _ _



P _ _ R _ _

LÍNGUA PORTUGUESA

COMPLETE EM ORDEM ALFABÉTICA AS CONSOANTES
QUE ESTÃO FALTANDO:

A				E		
	I					
O						U

LÍNGUA PORTUGUESA


QUAIS CONSOANTES FALTAM? DESCUBRA,
ESCREVA A PALAVRA E LEIA EM VOZ ALTA:




A _ A _ A _ E _



_ A _ A _ U _ Á _



_ E _ A _ _ I _ A _



_ U _ A _



A _ A _ A _ I _



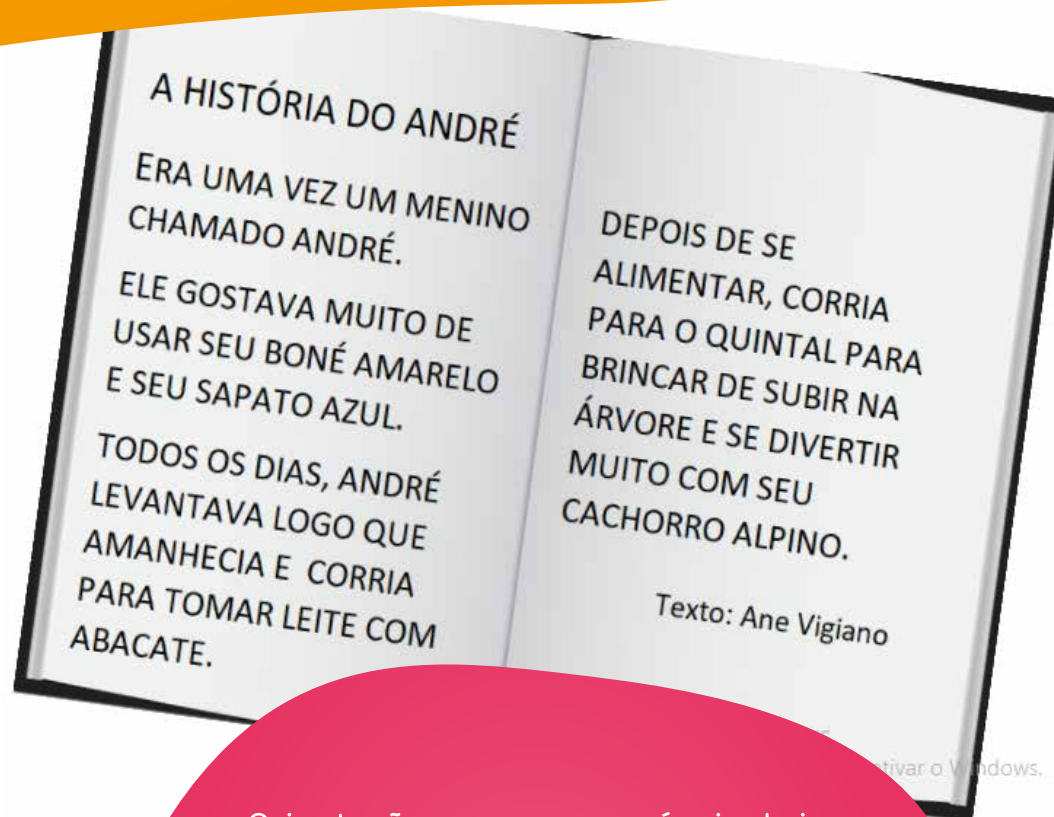
_ A _ A _ _ A _

LÍNGUA PORTUGUESA



ATIVIDADES

OUÇA ESTA HISTÓRIA E, TODAS AS VEZES QUE VOCÊ OUVIR ALGUMA PALAVRA QUE COMEÇA COM A **LETRA A**, BATA PALMAS.



Orientações aos responsáveis: Leia esta história em voz alta, de maneira que a criança consiga perceber a pronúncia correta das palavras.

Toda vez que houver a leitura de uma palavra que se inicia com a letra A, a criança deverá bater palmas.



**POR HOJE É SÓ!
AMANHÃ TEREMOS
MAIS. ATÉ LÁ!**

HISTÓRIA



QUAL É A IDEIA?

A CARTEIRA DE IDENTIDADE (OU REGISTRO GERAL) APRESENTA ALGUMAS INFORMAÇÕES QUE IDENTIFICAM UMA PESSOA, COMO FOTOGRAFIA E IMPRESSÃO DIGITAL..

VOCÊ TEM UMA CARTEIRA DE IDENTIDADE?

PESQUISE COM ALGUMA PESSOA QUE MORA COM VOCÊ COMO É A CARTEIRA DE IDENTIDADE DELA.



**IMPRESSÃO DIGITAL:
DESENHO FORMADO PELAS
ELEVAÇÕES NA PONTA DOS
DEDOS DAS PESSOAS.**

HISTÓRIA



ATIVIDADES

- TEM FOTO?
- TEM NOME E SOBRENOME DO DONO DA IDENTIDADE?
- TEM O NOME DOS PAIS?
- TEM O DIA DO NASCIMENTO?
- TEM A IMPRESSÃO DIGITAL DO DEDO POLEGAR?
- TEM O NOME DA CIDADE ONDE A PESSOA NASCEU?
- TEM A ASSINATURA DO DONO DA IDENTIDADE?

VAMOS PESQUISAR? OBSERVE
UMA CARTEIRA DE IDENTIDADE.
O QUE VOCÊ DESCOBRIU?



HISTÓRIA



ATIVIDADES

VAMOS DESENHAR UMA CARTEIRA DE IDENTIDADE?

FAÇA UM DESENHO
DO SEU ROSTO

REPÚBLICA FEDERATIVA DO BRASIL

ASSINATURA DO TITULAR
CARTEIRA DE IDENTIDADE

POLEGAR DIREITO

CARIMBE SEU
POLEGAR DIREITO



VOCÊ PODE
USAR TINTA

FAÇA UMA ASSINATURA DO
SEU NOME


HISTÓRIA



PARA APRENDER

VOCÊ SABIA QUE NINGUÉM TEM A DIGITAL IGUAL À SUA? VOCÊ É ÚNICO!

EM UMA FOLHA OU NO ESPAÇO AO LADO,
CARIMBE SUAS DIGITAIS E AS DIGITAIS DAS
PESSOAS EM SUA CASA. DEPOIS COMPARE-AS
E IDENTIFIQUE AS DIFERENÇAS.











**COMO FOI
DIVERTIDO HOJE!
ATÉ AMANHÃ!**

MATEMÁTICA



ATIVIDADES

RECORTE E COLE A QUANTIDADE DE ELEMENTOS INDICADOS NOS DADOS. DEPOIS ESCREVA O NÚMERO PARA REPRESENTÁ-LOS.

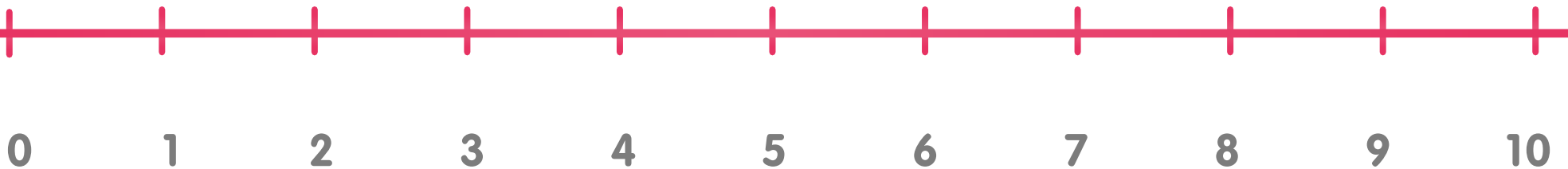


MATEMÁTICA



ATIVIDADES

CONTE QUANTOS PULOS JOÃO DARÁ E ESCREVA O NÚMERO AO QUAL ELE CHEGARÁ:



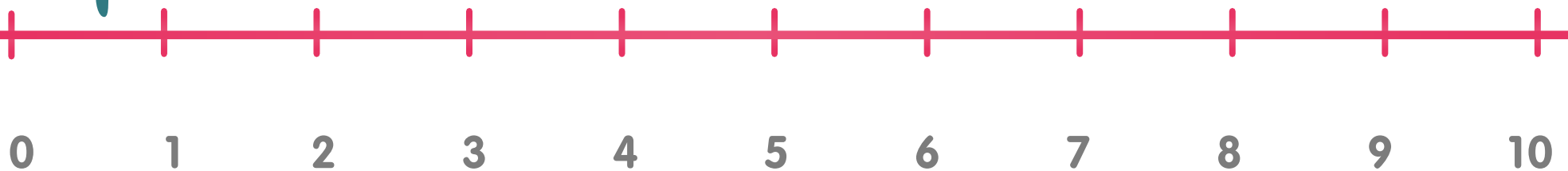
JOÃO DARÁ 5 PULOS. ELE CHEGARÁ AO NÚMERO: _____

MATEMÁTICA



ATIVIDADES

CONTE QUANTOS PULOS JOÃO DARÁ E ESCREVA O NÚMERO AO QUAL ELE CHEGARÁ:



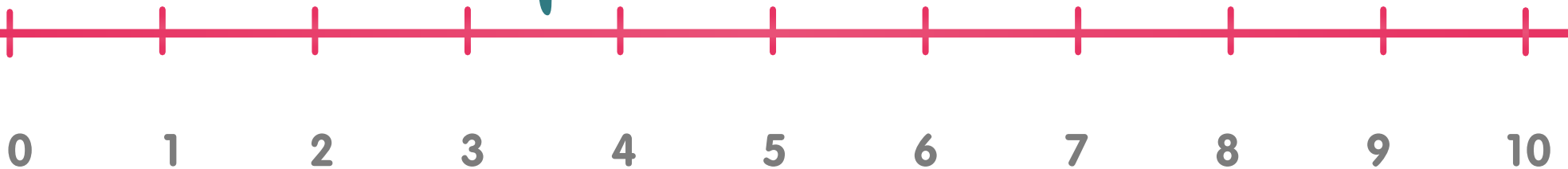
JOÃO DARÁ 7 PULOS. ELE CHEGARÁ AO NÚMERO: _____

MATEMÁTICA



ATIVIDADES

CONTE QUANTOS PULOS JOÃO
DARÁ E ESCREVA O NÚMERO AO
QUAL ELE CHEGARÁ:



JOÃO DARÁ 3 PULOS. ELE CHEGARÁ AO NÚMERO: ____

INSPIRADOS NOS PULOS DE JOÃO, VAMOS BRINCAR DE PULAR CORDA?

CONTE EM VOZ ALTA.

ATÉ QUAL NÚMERO VOCÊ
CONSEGUE PULAR E CONTAR?



VAMOS OUVIR UMA HISTÓRIA
COM NÚMEROS, QUANTIDADES
E MUITAS AVENTURAS!!!

1, 2, 3 CIRCO
GUIDO VAN GENECHTEN

